


ชุดแบบฝึกทักษะ


เรื่อง การบวก ลบ คูณ หาร
เศษส่วนและจำนวนคละ

ชั้นประถมศึกษาปีที่ 5

คุณครูธิติมา , ตุ๊กชูแสง
ตำแหน่ง ครู



สังกัดสำนักงานเขตพื้นที่การศึกษา
ประถมศึกษาสุราษฎร์ธานี เขต 1





แบบฝึกทักษะที่ 1.1

เรื่อง การบวก การลบ เศษส่วน

คะแนน

ชื่อ - สกุล ชั้น เลขที่

จุดประสงค์ หาผลบวกผลลบของเศษส่วนและจำนวนคละ

คำชี้แจง ให้นักเรียนแสดงวิธีการหาผลบวก ผลลบ ของเศษส่วน

1. $\frac{7}{9} - \frac{2}{5}$

วิธีทำ.....

.....

.....

.....

.....

.....

ตอบ



2. $\frac{3}{16} + \frac{3}{8}$

วิธีทำ.....

.....

.....

.....

.....

.....

ตอบ



3. $\frac{2}{9} + \frac{7}{10}$

วิธีทำ.....

.....

.....

.....

.....

ตอบ



4. $\frac{7}{9} - \frac{12}{20}$

วิธีทำ.....

.....

.....

.....

.....

ตอบ





แบบฝึกทักษะที่ 1.2

เรื่อง การบวก การลบ จำนวนคละ

คะแนน

ชื่อ - สกุล ชั้น เลขที่

 จุดประสงค์ หาผลบวกผลลบของเศษส่วนและจำนวนคละ

 คำชี้แจง ให้นักเรียนแสดงวิธีการหาผลบวก ผลลบ ของจำนวนคละ

1. $2\frac{3}{8} + 4\frac{5}{6}$

วิธีทำ.....

.....
.....
.....
.....
.....

ตอบ



2. $11\frac{9}{10} - 3\frac{5}{9}$

วิธีทำ.....

.....
.....
.....
.....
.....

ตอบ



3. $5\frac{2}{7} + 3\frac{5}{9}$

วิธีทำ.....

.....
.....
.....
.....
.....

ตอบ



4. $7\frac{5}{9} - 3\frac{7}{15}$

วิธีทำ.....

.....
.....
.....
.....
.....

ตอบ






แบบฝึกทักษะที่ 1.3

คะแนน

เรื่อง การคูณจำนวนนับกับเศษส่วน

ชื่อ - สกุล ชั้น เลขที่

 จุดประสงค์ หาผลคูณของเศษส่วน และจำนวนคละ

 คำชี้แจง ให้นักเรียนแสดงวิธีการหาผลคูณ

1. $14 \times \frac{3}{49}$

วิธีทำ.....

.....
.....
.....
.....
.....
.....

ตอบ



2. $\frac{10}{45} \times 3$

วิธีทำ.....

.....
.....
.....
.....
.....
.....

ตอบ



3. $\frac{11}{18} \times 27$

วิธีทำ.....

.....
.....
.....
.....
.....
.....

ตอบ



4. $36 \times \frac{5}{18}$

วิธีทำ.....

.....
.....
.....
.....
.....
.....

ตอบ





แบบฝึกทักษะที่ 1.4

คะแนน

เรื่อง การคูณจำนวนเศษส่วนกับเศษส่วน

ชื่อ – สกุล ชั้น เลขที่

จุดประสงค์ หาผลคูณของเศษส่วน และจำนวนคละ

คำชี้แจง ให้นักเรียนแสดงวิธีการหาผลคูณ

1. $\frac{9}{16} \times \frac{8}{12}$

วิธีทำ.....

.....

.....

.....

.....

ตอบ



2. $\frac{13}{27} \times \frac{9}{39}$

วิธีทำ.....

.....

.....

.....

.....

ตอบ



3. $\frac{11}{25} \times \frac{15}{22}$

วิธีทำ.....

.....

.....

.....

.....

ตอบ



4. $\frac{15}{34} \times \frac{10}{45}$

วิธีทำ.....

.....

.....

.....

.....

ตอบ





แบบฝึกทักษะที่ 1.5

คะแนน

เรื่อง การคูณจำนวนนับกับจำนวนคละ

ชื่อ - สกุล ชั้น เลขที่

 จุดประสงค์ หาผลคูณของเศษส่วน และจำนวนคละ

 คำชี้แจง ให้นักเรียนแสดงวิธีการหาผลคูณ

1. $20 \times 6\frac{4}{10}$

วิธีทำ.....

.....
.....
.....
.....
.....

ตอบ



2. $5\frac{3}{5} \times 15$

วิธีทำ.....

.....
.....
.....
.....
.....

ตอบ



3. $1\frac{3}{16} \times 8$

วิธีทำ.....

.....
.....
.....
.....
.....

ตอบ



4. $27 \times 2\frac{7}{18}$

วิธีทำ.....

.....
.....
.....
.....
.....


ตอบ





แบบฝึกทักษะที่ 1.6


คะแนน



เรื่อง การคูณเศษส่วนกับจำนวนคละ

ชื่อ - สกุล ชั้น เลขที่

 จุดประสงค์ หาผลคูณของเศษส่วน และจำนวนคละ

 คำชี้แจง ให้นักเรียนแสดงวิธีการหาผลคูณ

1. $3\frac{7}{15} \times \frac{3}{13}$

วิธีทำ.....
.....
.....
.....
.....

ตอบ



2. $\frac{5}{14} \times 2\frac{1}{10}$

วิธีทำ.....
.....
.....
.....
.....

ตอบ



3. $\frac{21}{8} \times 3\frac{4}{9}$

วิธีทำ.....
.....
.....
.....
.....

ตอบ



4. $8\frac{5}{11} \times \frac{44}{15}$

วิธีทำ.....
.....
.....
.....
.....

ตอบ





แบบฝึกทักษะที่ 1.7

เรื่อง ส่วนกลับของเศษส่วน

คะแนน

ชื่อ - สกุล ชั้น เลขที่

จุดประสงค์ หาส่วนกลับของเศษส่วนได้

คำชี้แจง ให้นักเรียนเติมคำตอบ

จงเติมคำตอบ

1. ส่วนกลับของ $\frac{5}{13}$ คือ..... เพราะ $\frac{5}{13} \times \dots = \dots$
2. ส่วนกลับของ $\frac{17}{9}$ คือ..... เพราะ $\frac{17}{9} \times \dots = \dots$
3. ส่วนกลับของ $\frac{20}{33}$ คือ..... เพราะ $\frac{20}{33} \times \dots = \dots$
4. ส่วนกลับของ $\frac{14}{5}$ คือ..... เพราะ $\frac{14}{5} \times \dots = \dots$
5. ส่วนกลับของ $\frac{3}{23}$ คือ..... เพราะ $\frac{3}{23} \times \dots = \dots$



จงเติมตัวเลขแสดงจำนวนใน

1. $\frac{3}{23} \times \frac{\text{circle}}{\text{circle}} = 1$
2. $\frac{\text{circle}}{\text{circle}} \times \frac{16}{9} = 1$
3. $\frac{\text{circle}}{\text{circle}} \times \frac{17}{25} = 1$
4. $\frac{38}{51} \times \frac{\text{circle}}{\text{circle}} = 1$
5. $\frac{56}{23} \times \frac{\text{circle}}{\text{circle}} = 1$
6. $\frac{\text{circle}}{\text{circle}} \times \frac{27}{43} = 1$







แบบฝึกทักษะที่ 1.8

เรื่อง การหารจำนวนนับด้วยเศษส่วน

ชื่อ – สกุล ชั้น.....เลขที่.....

 จุดประสงค์ หาผลหารของเศษส่วน และจำนวนคละ

 คำชี้แจง ให้นักเรียนแสดงวิธีการหาผลหาร

1. $3 \div \frac{5}{27}$

วิธีทำ.....

.....

.....

.....

.....

.....

.....


.....

.....

.....

.....

ตอบ



2. $36 \div \frac{9}{24}$

วิธีทำ.....

.....

.....

.....

.....

.....

.....

.....


.....

.....

.....

.....

ตอบ



3. $144 \div \frac{4}{9}$

วิธีทำ.....

.....

.....

.....

.....

.....


.....

.....

.....

.....

ตอบ



4. $25 \div \frac{20}{3}$

วิธีทำ.....

.....

.....

.....

.....

.....


.....

.....

.....

.....

ตอบ






แบบฝึกทักษะที่ 1.9

คะแนน

เรื่อง การหารเศษส่วนด้วยจำนวนนับ

ชื่อ - สกุล ชั้น เลขที่

 จุดประสงค์ หาผลหารของเศษส่วน และจำนวนคละ

 คำชี้แจง ให้นักเรียนแสดงวิธีการหาผลหาร

1. $\frac{9}{14} \div 21$

วิธีทำ.....

.....
.....
.....
.....
.....

ตอบ



2. $\frac{18}{25} \div 9$

วิธีทำ.....

.....
.....
.....
.....
.....

ตอบ



3. $\frac{21}{8} \div 49$

วิธีทำ.....

.....
.....
.....
.....
.....

ตอบ



4. $\frac{32}{45} \div 16$

วิธีทำ.....

.....
.....
.....
.....
.....

ตอบ






แบบฝึกทักษะที่ 1.10

คะแนน

เรื่อง การหารจำนวนนับด้วยเศษส่วน

ชื่อ - สกุล ชั้น เลขที่

 จุดประสงค์ หาผลหารของเศษส่วน และจำนวนคละ

 คำชี้แจง ให้นักเรียนแสดงวิธีการหาผลหาร

1. $42 \div \frac{7}{8}$

วิธีทำ.....

.....

.....

.....

.....

ตอบ



2. $72 \div \frac{12}{21}$

วิธีทำ.....

.....

.....

.....

.....

ตอบ



3. $48 \div \frac{16}{27}$

วิธีทำ.....

.....

.....

.....

.....

ตอบ



4. $108 \div \frac{44}{15}$

วิธีทำ.....

.....

.....

.....

.....

ตอบ







แบบฝึกทักษะที่ 1.11

คะแนน

เรื่อง การหารเศษส่วนด้วยเศษส่วน

ชื่อ - สกุล ชั้น เลขที่

 จุดประสงค์ หาผลหารของเศษส่วน และจำนวนคละ

 คำชี้แจง ให้นักเรียนแสดงวิธีการหาผลหาร

1. $\frac{7}{15} \div \frac{14}{25}$

วิธีทำ.....

.....

.....

.....

.....

.....

ตอบ



2. $\frac{21}{48} \div \frac{27}{36}$

วิธีทำ.....

.....

.....

.....

.....

.....

ตอบ



3. $\frac{42}{35} \div \frac{48}{55}$

วิธีทำ.....

.....

.....

.....

.....

.....

ตอบ



4. $\frac{26}{81} \div \frac{13}{27}$

วิธีทำ.....

.....

.....

.....

.....

.....

ตอบ






แบบฝึกทักษะที่ 1.12

เรื่อง การหารจำนวนคละ

คะแนน

ชื่อ - สกุล ชั้น เลขที่

 จุดประสงค์ หาผลหารของเศษส่วน และจำนวนคละ

 คำชี้แจง ให้นักเรียนแสดงวิธีการหาผลหาร

1. $5\frac{2}{3} \div \frac{5}{21}$

วิธีทำ.....

.....

.....

.....

.....

.....

ตอบ



2. $14 \div 2\frac{1}{10}$

วิธีทำ.....

.....

.....

.....

.....

.....

ตอบ



3. $12\frac{3}{7} \div 3\frac{4}{21}$

วิธีทำ.....

.....

.....

.....

.....

.....

ตอบ



4. $3\frac{5}{11} \div 2\frac{2}{20}$

วิธีทำ.....

.....

.....

.....

.....

.....

ตอบ





www.tsk.ac.th

